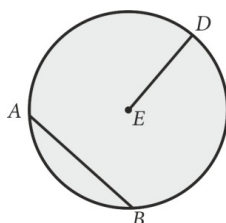





IMIĘ I NAZWISKO:	PUNKTY	OCENA	GRUPA
KLASA:	___ p. / ___ p.		A

1. Wpisz w lukę odpowiednią informację.

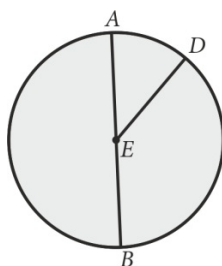


Na rysunku odcinek _____ jest promieniem przedstawionego koła.

2. Narysuj okrąg i zaznacz na tym okręgu dowolny punkt A. Narysuj trzy różne cięciwy: AB, AC i AD.

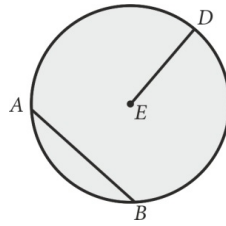


3. Wpisz w lukę odpowiednią informację.



Na rysunku odcinek _____ jest średnicą przedstawionego koła.

4. Wpisz w lukę odpowiednią informację.



Na rysunku odcinek _____ jest cięciwą przedstawionego koła.

5. W narysowanym okręgu zaznacz dwie cięciwy.

