

# Nauczanie przez internet – Matematyka klasa VI

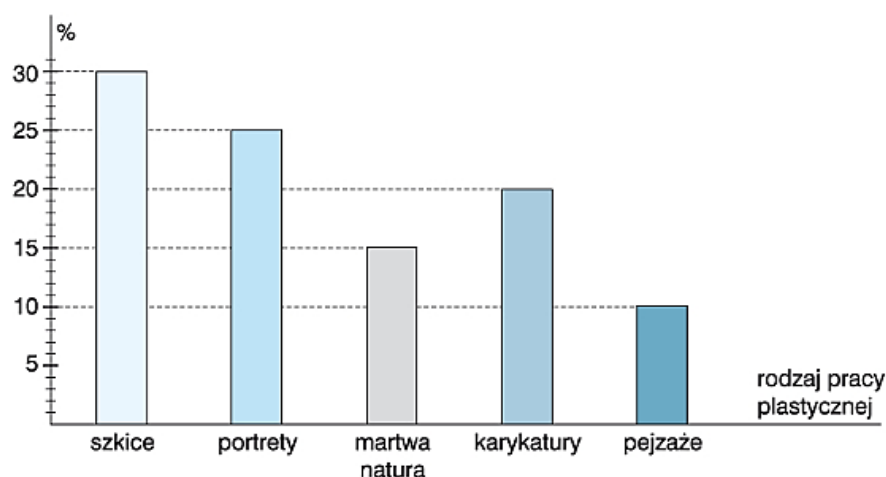
## Lekcja 30. Zadania powtórzeniowe przed sprawdzianem

14.05.2020

Dzisiaj ostatnia lekcja powtórzeniowa, przygotowująca do jutrzejszego sprawdzianu z procentów. Przeanalizujemy przykłady z diagramami procentowymi.

### Zad. 1.

Ania chciałaby uczyć się w gimnazjum plastycznym. Do sekretariatu gimnazjum oddała 4040 swoich prac plastycznych. Prace były wykonane różnymi technikami i miały różną tematykę. Na diagramie słupkowym Ania przedstawiła procentowy rozkład swoich prac: szkiców, portretów, kompozycji typu martwa natura, karykatur i pejzaży.



Uzupełnij zdania. Wybierz właściwe liczby spośród A i B oraz C i D.

Ania oddała o \_\_ punktów procentowych mniej pejzaży niż portretów.

A. 20

B. 15

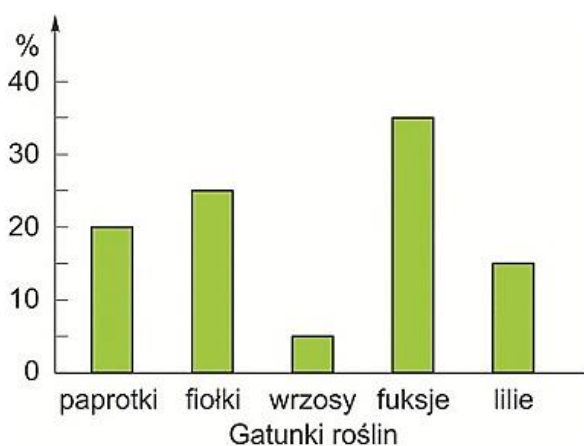
Ania oddała o \_\_ punktów procentowych więcej szkiców niż karykatur.

C. 10

D. 5

### Zad.2.

Na święto szkoły uczniowie udekorowali aulę kwiatami. Diagram przedstawia skład procentowy poszczególnych gatunków roślin.



Skorzystaj z diagramu i uzupełnij tabelę.

Gatunek roślin	paprotcie	fiołki	wrzosey	fuksje	lilie
%	<input type="text"/>	<input type="text"/>	<input type="text"/>	<input type="text"/>	15%

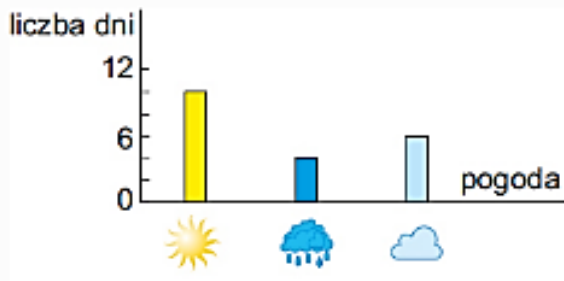
Zad. 3.

Kajtek przebywał przez 2020 dni u babci na wsi: przez 1010 dni świeciło słońce, przez 44 padał deszcz, a pozostałe były pochmurne.

Który diagram nie przedstawia stanu pogody w czasie pobytu Kajtka u babci?

Wskaż właściwą odpowiedź.

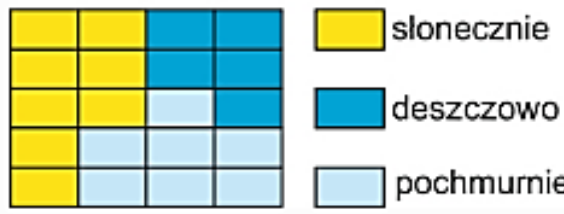
A.



liczba dni

pogoda	liczba dni
slonecznie	10
deszczowo	4
pochmurnie	6


B.



slonecznie	slonecznie	deszczowo	deszczowo
slonecznie	slonecznie	pochmurnie	deszczowo
slonecznie	pochmurnie	pochmurnie	pochmurnie
slonecznie	pochmurnie	pochmurnie	pochmurnie

slonecznie  
deszczowo  
pochmurnie

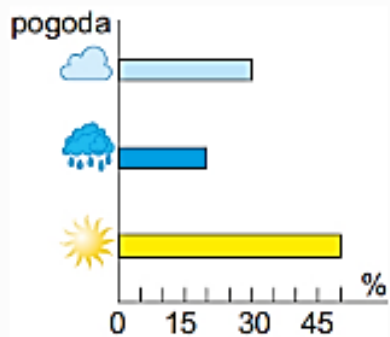
C.



2 dni  
2 dni  
2 dni

sloneczne deszczowe pochmurne dni

D.



pogoda

pogoda	%
slonecznie	45
deszczowo	15
pochmurnie	30

0 15 30 45 %