


Lekcja 11. Skrzyżowania z drogą z pierwszeństwem przejazdu.

03.06.2020

Na większości skrzyżowań kolejność przejazdu regulują znaki. Informują kierującego o tym, że porusza się drogą z pierwszeństwem, ostrzegają o konieczności ustąpienia pierwszeństwa bądź zakazują wjazdu na skrzyżowanie bez wcześniejszego zatrzymania się. Dotyczą one również pojazdów szynowych. Jeżeli droga z pierwszeństwem nie jest wytyczona na wprost przez skrzyżowanie, pod znakami mogą znajdować się dodatkowe tabliczki wskazujące na jej przebieg.

Przypomnienie:

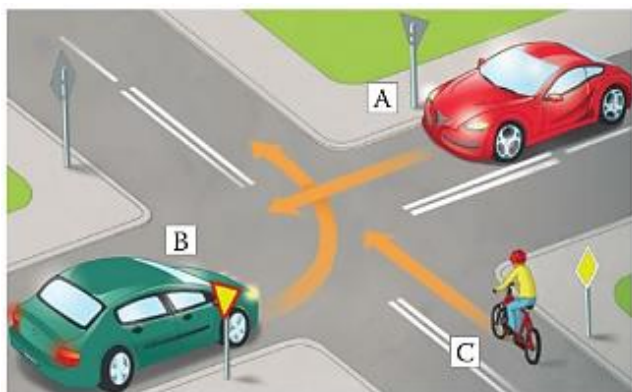
Pojazd, przed którym jest taki znak, ma pierwszeństwo przejazdu:



Pojazd, przed którym jest taki znak, ustępuje pierwszeństwa przejazdu:

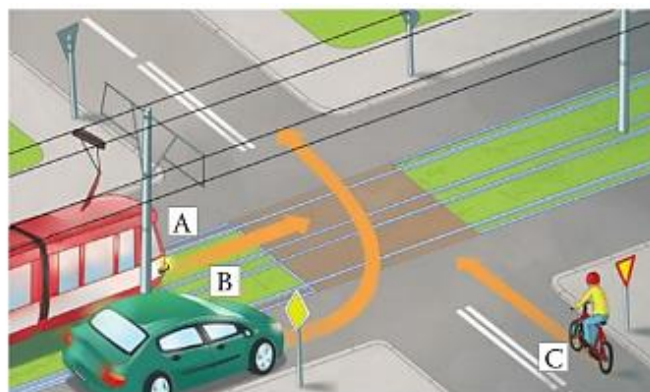


Ćwiczenie 1. Wskaż właściwe dokończenie każdego zdania.



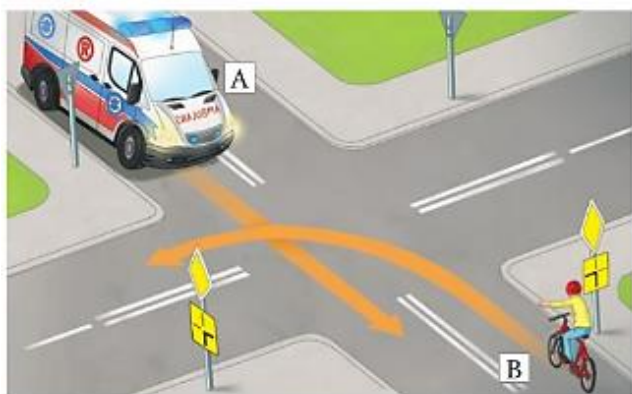
1. Pojazdy przejadą przez skrzyżowanie w kolejności:

- I. A, B, C.
- II. B, C, A.
- III. C, A, B.



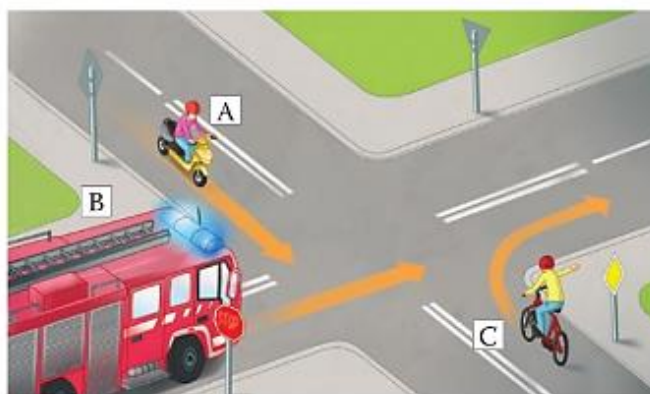
2. Pojazd A opuści skrzyżowanie jako

- I. pierwszy.
- II. drugi.
- III. trzeci.



3. Pojazd A

- I. musi ustąpić pierwszeństwa pojazdowi B.
- II. powinien skręcić w lewo.
- III. przejeżdża przez skrzyżowanie jako pierwszy.




4. Pierwszeństwo na skrzyżowaniu przysługuje pojazdowi

- I. A.
- II. C.
- III. B.

Skrzyżowania o ruchu okrężnym

Na niektórych skrzyżowaniach ruch odbywa się wokół ronda. Przed rondem zazwyczaj umieszczony jest znak ostrzegający o konieczności ustąpienia pierwszeństwa. Pojazd znajdujący się na skrzyżowaniu przejeżdża zatem przed tym, który dopiero zamierza na nie wjechać. Jeżeli jednak nie ma znaku ostrzegawczego, na rondzie należy postępować tak, jak na skrzyżowaniach równorzędnych.

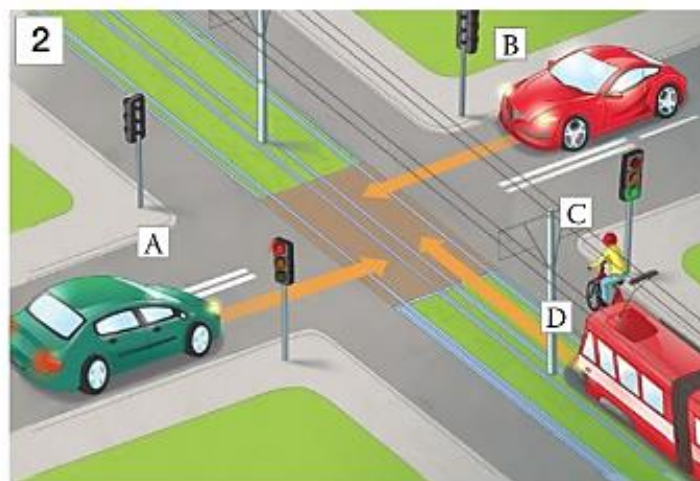
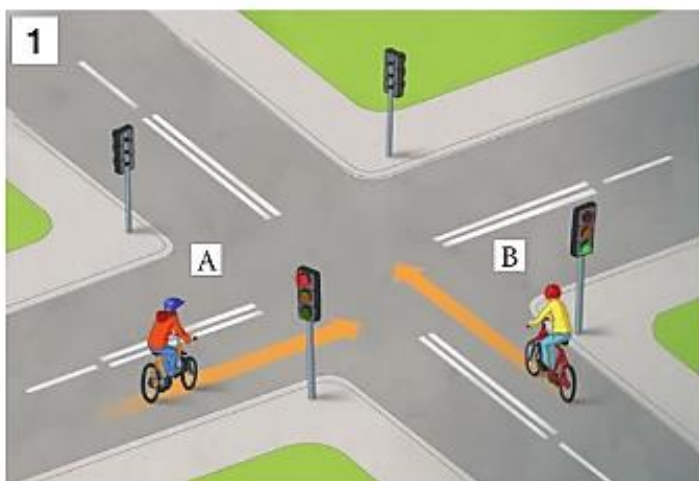
Pomyśl, jak powinien zachować się rowerzysta w przedstawionych sytuacjach. Zwróć uwagę na to, że rowerzysta wjeżdżający na rondo nr 2 ma znak **ustąp pierwszeństwa przejazdu**.



Skrzyżowania o ruchu kierowanym sygnalizacją świetlną

Na dużych skrzyżowaniach ruchem pojazdów najczęściej kieruje sygnalizacja świetlna. Zielone światło zezwala na jazdę, natomiast czerwone jej zakazuje. Kierujących pojazdami obowiązuje także światło koloru żółtego. Oznacza ono, że za chwilę będzie wyświetlane czerwone światło. Natomiast jednoczesne sygnały czerwony i żółty zapowiadają zmianę świateł na zielone.

Określ, w jakiej kolejności pojazdy opuszczą poszczególne skrzyżowania:



Przepisz do zeszytu pod tematem lekcji wszystkie teksty napisane na niebiesko, a także zadanie do zaliczenia - na następnej stronie.

Zadanie do zaliczenia. Rozwiązania przyslij do piątku 5 czerwca.

Rozwiąż rebusy. Otrzymane hasła zapisz w zeszycie. Następnie przyporządkuj je do rysunków skrzyżowań – w tym celu odpowiedz na pytanie: „Który pojazd pierwszy opuści skrzyżowanie?”

