



IMIĘ I NAZWISKO:

KLASA:

PUNKTY

___ p. / ___ p.

OCENA

GRUPA

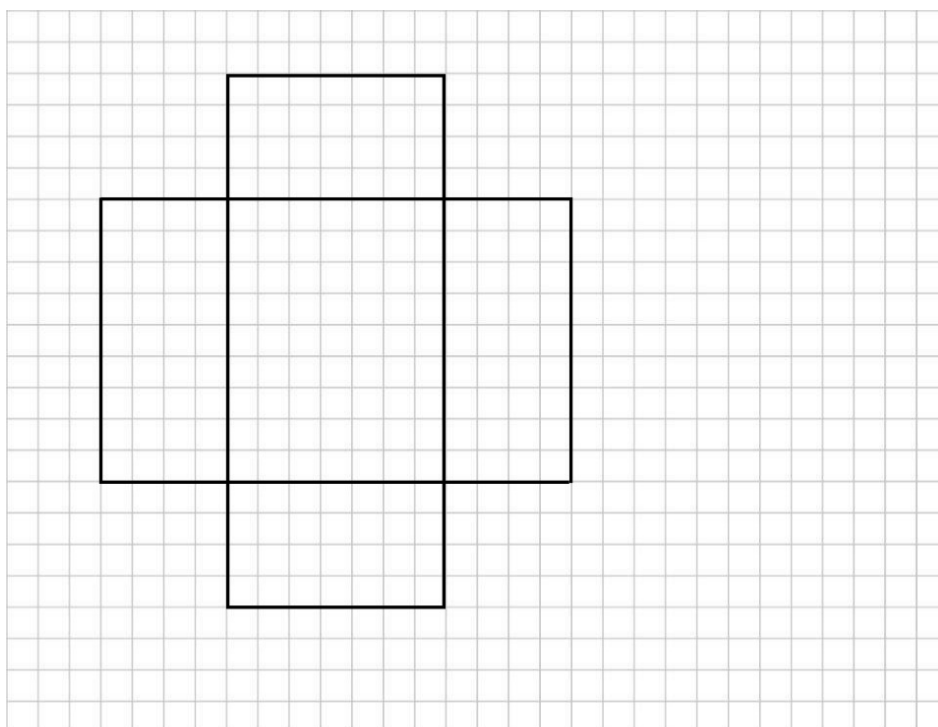
A

1. Uzupełnij zdanie.


Wpisz w lukę odpowiednią informację.

Wszystkie ściany sześcianu są _____ .

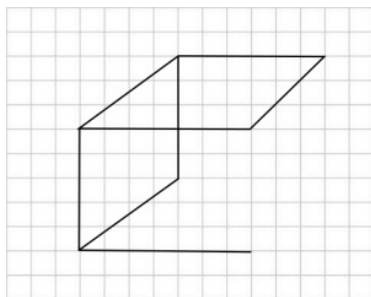
2. Dokończ rysunek tak, aby przedstawiał siatkę prostopadłościanu.



3. Oblicz pole całkowite prostopadłościanu z zadania 2. Do obliczeń przyjmij długości krawędzi: 2cm, 4cm, 5cm.



4. Dokończ rysunek tak, aby przedstawiał prostopadłościan.



5. Dokończ rysunek tak, aby przedstawiał siatkę sześcianu.

